

-- CONHECIMENTOS ESPECÍFICOS --**Texto 1A1-I**

De modo geral, os dados sobre crime e segurança pública divulgados na edição de 2022 do Anuário Brasileiro de Segurança Pública são reveladores de um quadro que, em uma primeira leitura, rende boas notícias para governos e sociedade. A violência letal, aquela que envolve, sob diferentes tipos jurídicos possíveis, situações em que uma pessoa mata a outra, manteve a tendência nacional de queda iniciada em 2018, mesmo que os números de 2022 indiquem uma curva de desaceleração. Porém, em uma segunda e mais panorâmica leitura do cenário sobre crime e violência no Brasil, há movimentos preocupantes e tendências que começam a ganhar corpo e merecem maior atenção dos profissionais da segurança pública, dos tomadores de decisão política e dos pesquisadores. Esse é o caso dos crimes patrimoniais, cujos movimentos sinalizam uma forte reconfiguração de como tais crimes são cometidos, sobretudo a partir da pandemia de covid-19, incluindo-se a migração dos roubos para modalidades como furtos, estelionatos e golpes virtuais.

Vale ressaltar, no entanto, que essa não é uma tendência exclusivamente brasileira. As oportunidades para o cometimento de ilícitos variam de acordo com as modalidades criminais. Roubos e furtos, por exemplo, dependem em grande medida do fluxo de pessoas que circulam pelas cidades, o que foi severamente restringido pelas medidas de isolamento social em todo o mundo. Já crimes que envolvem roubo e invasão de residências tornaram-se mais complexos para os criminosos, já que as famílias passaram mais tempo dentro de suas casas.

Um estudo que analisou dados criminais de 27 cidades em 23 países, para compreender o impacto da pandemia e das medidas de isolamento social nas dinâmicas criminais, constatou redução de 37% nos crimes globalmente. Agressões tiveram queda de 35% em decorrência das restrições de circulação e os homicídios tiveram, em média, queda de 14%, com apenas três cidades com crescimento. As violações de domicílio caíram cerca de 28% após a implementação das restrições e os roubos de veículos apresentaram redução de 39%.

No Brasil, o mesmo contexto foi observado, com queda generalizada dos indicadores de crimes patrimoniais nos anos de 2020 e 2021. A partir de 2022, no entanto, algumas modalidades criminais retomaram tendências pré-pandemia, com crescimento dos roubos e furtos de celulares e de veículos. Outras, entretanto, seguem em queda, como é o caso de roubos a instituições financeiras (-21,9%), de carga (-4,4%), a estabelecimentos comerciais (-15,6%) e a residências (-13,3%).

Renato Sérgio de Lima e Samira Bueno. *As novas configurações dos crimes patrimoniais no Brasil*. In: *Anuário Brasileiro de Segurança Pública / Fórum Brasileiro de Segurança Pública*. São Paulo: FBSP, 2023, pp. 90-91 (com adaptações).

Questão 21

A partir das ideias veiculadas no texto 1A1-I, é correto inferir que

- A a partir de 2022, algumas modalidades criminais passaram a indicar uma curva de desaceleração, como é o caso dos roubos e furtos de celular e de veículos.
- B os crimes que envolvem roubo e invasão de residências diminuíram durante a pandemia de covid-19, pois as famílias passavam mais tempo dentro de suas casas, o que dificultava o acesso dos criminosos a estas.
- C um estudo que analisou dados criminais de cidades no Brasil para compreender o impacto da pandemia e das medidas de isolamento social nas dinâmicas criminais constatou redução de 37% nos crimes patrimoniais.
- D as oportunidades para o cometimento de ilícitos variam de acordo com o país e sua população.
- E os crimes patrimoniais diminuíram no Brasil, por isso eles não requerem mais tanta preocupação das autoridades policiais do país.

Questão 22

No terceiro período do primeiro parágrafo do texto 1A1-I, a conjunção “Porém” introduz ideia de

- A comparação.
- B exemplificação.
- C explicação.
- D oposição.
- E condição.

Questão 23

No que se refere a aspectos linguísticos do texto 1A1-I, assinale a opção correta.

- A A supressão da vírgula empregada após a forma verbal “envolve” (segundo período do primeiro parágrafo) não prejudicaria a correção gramatical do texto.
- B O emprego do sinal indicativo de crase na expressão “a ganhar” (terceiro período do primeiro parágrafo) — **à ganhar** — manteria a correção gramatical do texto.
- C As formas verbais “variam” (segundo período do segundo parágrafo) e “passaram” (quarto período do segundo parágrafo) estão flexionadas no mesmo tempo verbal.
- D As palavras “possíveis” e “panorâmica” são acentuadas graficamente pela mesma regra de acentuação gráfica.
- E No terceiro período do segundo parágrafo, a flexão da forma verbal “dependem” na terceira pessoa do plural justifica-se pela concordância do verbo com o sujeito da oração, que é composto — “roubos e furtos”.

Questão 24

Sem prejuízo da correção gramatical e do sentido original do texto 1A1-I, a expressão “no entanto” (primeiro período do segundo parágrafo) poderia ser substituída por

- A dessa forma.
- B todavia.
- C conquanto.
- D sobretudo.
- E portanto.

Questão 25

No texto 1A1-I, o vocábulo “exclusivamente” (primeiro período do segundo parágrafo) exerce, no período em que se insere, a mesma função sintática que o termo

- A “maior”, no terceiro período do primeiro parágrafo.
- B “forte”, no quarto período do primeiro parágrafo.
- C “primeira”, no primeiro período do primeiro parágrafo.
- D “letal”, no segundo período do primeiro parágrafo.
- E “mais”, no terceiro período do primeiro parágrafo.

Questão 26

Assinale a opção correta em relação a aspectos linguísticos do seguinte período do primeiro parágrafo do texto 1A1-I: “A violência letal, aquela que envolve, sob diferentes tipos jurídicos possíveis, situações em que uma pessoa mata a outra, manteve a tendência nacional de queda iniciada em 2018, mesmo que os números de 2022 indiquem uma curva de desaceleração.”

- A A flexão da forma verbal “manteve” na terceira pessoa do singular justifica-se pela concordância do verbo com o termo “tendência”, que é o sujeito da oração.
- B A forma verbal “indiquem”, empregada no modo subjuntivo, denota que os “números de 2022” são duvidosos.
- C Estariam mantidas a correção gramatical do texto e sua coerência caso o vocábulo “aquela” fosse suprimido do período.
- D O deslocamento da expressão “sob diferentes tipos jurídicos possíveis”, com as vírgulas que a isolam, para imediatamente depois da forma verbal “manteve” não prejudicaria nem a correção gramatical nem os sentidos do período.
- E Estariam mantidas a correção gramatical e a coerência das ideias do período caso se substituísse “em que” por **onde**.

Questão 27

A oração “mesmo que os números de 2022 indiquem uma curva de desaceleração” (segundo período do primeiro parágrafo) expressa, em relação à oração anterior, circunstância de

- A proporcionalidade.
- B causa.
- C consequência.
- D concessão.
- E condição.

Questão 28

A palavra “panorâmica” (terceiro período do primeiro parágrafo) é empregada, no texto 1A1-I, com o sentido de

- A dinâmica.
- B rápida.
- C resumida.
- D superficial.
- E ampla.

Questão 29

Segundo o **Manual de Redação da Presidência da República**, o atributo segundo o qual a redação oficial deve ser elaborada sempre em nome do serviço público e sempre em atendimento ao interesse geral dos cidadãos é denominado

- A padronização.
- B coerência.
- C impessoalidade.
- D objetividade.
- E formalidade.

Questão 30

Em relação ao uso do correio eletrônico (*email*) no âmbito da correspondência oficial, assinale a opção correta, com base no **Manual de Redação da Presidência da República**.

- A Os *emails* podem ser enviados de qualquer endereço eletrônico, sem extensão definida, desde que o servidor público responsável por sua emissão se identifique com seu nome e cargo.
- B Apesar de não se definir padronização da mensagem comunicada por *email*, há recomendação quanto ao tipo de fonte a ser empregado bem como ao seu tamanho.
- C A utilização de *email* para a comunicação tornou-se prática frequente, mas deve ser restrita ao âmbito privado.
- D O destinatário deverá reconhecer como válido somente o *email* que apresentar certificação digital.
- E Devido a seu formato eletrônico, *email* não é considerado documento oficial.

Questão 31

Acerca do padrão ofício, julgue os itens a seguir, de acordo com o **Manual de Redação da Presidência da República**.

- I O cabeçalho é utilizado apenas na primeira página do documento, centralizado na área determinada pela formatação.
- II Nos casos em que não seja usado para encaminhamento de documentos, o expediente deve conter a seguinte estrutura: introdução, desenvolvimento e conclusão.
- III Os dados do órgão emissor, tais como endereço, telefone, endereço de correspondência eletrônica e sítio eletrônico oficial da instituição, podem ser informados no rodapé do documento, centralizados.

Assinale a opção correta.

- A Apenas o item I está certo.
- B Apenas o item II está certo.
- C Apenas os itens I e III estão certos.
- D Apenas os itens II e III estão certos.
- E Todos os itens estão certos.

Questão 32

Em relação à formalidade e à padronização das correspondências oficiais, assinale a opção correta, conforme o **Manual de Redação da Presidência da República**.

- A A língua culta se opõe à pobreza de expressão e à simplicidade, por isso o jargão burocrático é utilizado nas correspondências oficiais.
- B Não existe propriamente um padrão oficial de linguagem, portanto o uso da norma padrão nos atos e nas comunicações oficiais não é obrigatório, embora recomendado.
- C O uso do padrão culto significa empregar a língua de modo rebuscado.
- D A formalidade de tratamento vincula-se não só ao atendimento de regras formais, mas também à necessária uniformidade das comunicações.
- E A padronização diz respeito à civilidade no próprio enfoque dado ao assunto do qual cuida a comunicação.

Questão 33

Assinale a opção que corresponde, em um documento Word, à seção que aparece na margem superior, que inclui informações adicionais as quais aparecerão em cada página do documento — como número de página, datas e nome do autor — e que ajuda a manter organizados documentos longos.

- A Tabelas
- B Cabeçalho
- C Sumário
- D Espaçamento
- E Estilo

Questão 34

Supondo que, em uma planilha Excel, tenha sido inserida a informação 123.456.789-00 na célula A1, assinale a opção que apresenta a expressão que deverá ser aplicada para que a informação de A1 seja apresentada sem os pontos e sem o hífen na célula B1.

- A =SUBSTITUIR (SUBSTITUIR (A1; ". "; ""); "- "; "")
- B =CARACTUNICODE (CÓDIGO (A1))
- C =PROCURAR (". "; A1)
- D =É.NÃO.DIS (A1)
- E =CONCATENAR (ESQUERDA (A1; 3); DIREITA (A1; 2))

Questão 35

Assinale a opção que apresenta o tipo de serviço de computação em nuvem que é um modelo de execução orientado a eventos e que permite que desenvolvedores criem, executem e gerenciem pacotes de aplicações sem a necessidade de se preocuparem com a manutenção da infraestrutura.

- A *software* como serviço (SaaS)
- B plataformas como serviço (PaaS)
- C infraestrutura como serviço (IaaS)
- D *containers* como serviço (CaaS)
- E função como serviço (FaaS)

Questão 36

A função Novo Slide, na faixa de opções do PowerPoint, permite escolher

- A a formatação da tela de fundo do *slide*.
- B o *layout* do *slide*.
- C as dimensões do *slide*.
- D a transição do *slide*.
- E a configuração de impressão do *slide*.

Questão 37




	A	B
1	José	54529
2	João	84113
3	Antônio	76348
4	Francisca	725642
5	Antônia	592815
6	Adriana	567968
7	Juliana	564706
8		

planilha 1

José	João	Antônio	Francisca	Antônia	Adriana	Juliana
54529	84113	76348	725642	592815	567968	564706

planilha 2

No Excel, para que um usuário obtenha a planilha 2 a partir da planilha 1, ele deverá selecionar as células de A1 a B7 e, então,

- A clicar, nesta ordem, na aba Página Inicial, em Estilos de Célula, em Formato do Número e, por fim, em Vírgula.
- B clicar na aba Página Inicial e, em seguida, em Mesclar e Centralizar.
- C clicar na aba Dados e selecionar o comando Classificar de A a Z (do menor para o maior).
- D copiar o conteúdo dessas células e, ao colá-lo em outra célula, selecionar a opção Transpor Linhas e Colunas.
- E inserir tabela com o comando  +  + .

Questão 38

Assinale a opção que apresenta protocolo de aplicação que funciona ao nível mais elevado da pilha TCP/IP e que é um protocolo ASCII muito simples, utilizado para envio de *emails* transacionais.

- A RTSP (*real-time streaming protocol*)
- B SMTP (*simple mail transfer protocol*)
- C SIP (*session initiation protocol*)
- D FTP (*file transfer protocol*)
- E HTTP (*hypertext transfer protocol*)

Situação hipotética 1A3-I

Em uma agência de inteligência, em certo momento, havia 90 casos a serem investigados — 78 deles envolviam roubos e 63 envolviam assassinatos. 30 agentes, trabalhando 6 horas por dia, conseguiram, em 40 dias, reduzir para 70 o número total de casos a serem investigados.

Questão 39

Considere que, na situação hipotética 1A3-I, o chefe da agência de inteligência tenha decidido realizar um mutirão, aumentando o número de agentes para 50, todos trabalhando 8 horas por dia. Nessas circunstâncias, se novos casos não surgirem e o nível de produtividade do período do mutirão permanecer o mesmo de antes, o número de casos a serem investigados será zerado

- A em menos de 45 dias.
- B entre 45 e 50 dias.
- C entre 50 e 55 dias.
- D entre 55 e 60 dias.
- E em mais de 60 dias.

Questão 40

Na situação hipotética 1A3-I, o menor número possível de casos a serem investigados que não envolviam roubos ou assassinatos é igual a

- A 12.
- B 15.
- C 27.
- D 51.
- E 63.

Questão 41

Na situação hipotética 1A3-I, o percentual de casos a serem investigados que remanesceram após os 40 primeiros dias de trabalho dos agentes é

- A menor que 30%.
- B maior que 30% e menor que 55%.
- C maior que 55% e menor que 70%.
- D maior que 70% e menor que 80%.
- E maior que 80%.

Situação hipotética 1A3-II

Pablo, estudante de direito aprovado em concurso público, foi preso por suspeita de tentativa de roubo, à mão armada, de um celular avaliado em R\$ 800,00. Seu nome, o de sua mãe, sua idade e seu local de nascimento coincidiam com as informações apuradas na investigação. Além disso, dados de localização do celular de Pablo, um aparelho de última geração avaliado em mais de R\$ 5 mil, indicaram que ele estava na cidade na época do crime.

Em sua defesa, ele alegou o que se segue.

P_1 : “Eu estava na cidade porque fui fazer concurso público.”

P_2 : “Meu celular vale muito mais que o que me acusam de tentar roubar.”

P_3 : “Se meu celular vale muito mais que o que me acusam de tentar roubar, não preciso tentar roubá-lo.”

P_4 : “Se não preciso tentar roubá-lo, não cometi esse crime.”

C: “Logo, não cometi esse crime.”

Questão 42

Com base na situação hipotética 1A3-II, assinale a opção que indica o número de linhas da tabela-verdade da proposição P_3 .

- A 2
- B 4
- C 8
- D 16
- E 32

Questão 43

A negação da proposição P_2 apresentada na situação hipotética 1A3-II pode ser expressa corretamente por

- A “Meu celular não vale pouco menos que o que não me acusam de não tentar não roubar.”.
- B “Meu celular vale pouco mais que o que me acusam de tentar roubar.”.
- C “Meu celular vale muito mais que o que não me acusam de tentar roubar.”.
- D “Meu celular vale muito menos que o que me acusam de tentar roubar.”.
- E “Meu celular não vale muito mais que o que me acusam de tentar roubar.”.

Questão 44

Assinale a opção em que está apresentada uma proposição equivalente à P_4 da situação hipotética 1A3-II.

- A “Precisava tentar roubá-lo e cometi esse crime.”
- B “Preciso tentar roubá-lo ou não cometi esse crime.”
- C “Se preciso tentar roubá-lo, cometi esse crime.”
- D “Se não cometi esse crime, não preciso tentar roubá-lo.”
- E “Preciso tentar roubá-lo, mas não cometi esse crime.”

Questão 45

A partir dos dados da situação hipotética 1A3-II e do argumento construído por Pablo em sua defesa, assinale a opção correta.

- A Sob o ponto de vista lógico, o argumento não é válido, o que indica que Pablo precisará juntar novos elementos para provar sua inocência.
- B O argumento é válido, mas isso não isenta nem evidencia a culpa de Pablo.
- C Sob o ponto de vista lógico, o argumento não é válido, o que evidencia que Pablo é culpado.
- D Sob o ponto de vista lógico, o argumento é válido, o que isenta Pablo de culpa.
- E Sob o ponto de vista lógico, o argumento não é válido, mas isso não evidencia a culpa de Pablo.

Questão 46

Atualmente, a corrente majoritária de pensadores da área de contabilidade a conceitua como

- A uma ciência exata.
- B uma técnica.
- C uma subdivisão da administração.
- D uma forma de arte.
- E uma ciência social.

Questão 47

Considerando-se os componentes do objeto de estudo da contabilidade, é correto afirmar que um aumento no patrimônio que não seja resultante da atuação dos sócios ou acionistas da entidade, nessa condição, pode ser gerado por

- A uma redução no passivo com sacrifício de um bem ou direito da entidade.
- B uma redução no passivo provocada pelo pagamento de uma obrigação.
- C um aumento de direitos sem contrapartida passiva.
- D um aumento nas obrigações devido a um financiamento.
- E um aumento no ativo pela compra de um bem a prazo.

Questão 48

Julgue os itens a seguir, relativos a atos e fatos administrativos.

- I A compra, à vista, de mercadorias para revenda constitui um fato administrativo permutativo.
- II A compra de um veículo, com 50% do pagamento em dinheiro e 50% financiado, é um exemplo de fato administrativo misto.
- III O pagamento de um título vencido e acrescido de juros moratórios e multa é um fato administrativo modificativo.

Assinale a opção correta.

- A Apenas o item I está certo.
- B Apenas o item II está certo.
- C Apenas os itens I e III estão certos.
- D Apenas os itens II e III estão certos.
- E Todos os itens estão certos.

Questão 49

Uma empresa adquiriu um equipamento de uso produtivo para utilizá-lo por 10 anos. No ato da compra, a empresa pagou uma entrada de 20% do valor do equipamento e financiou os 80% restantes em 60 meses, com juros prefixados.

Nessa situação hipotética, para escriturar a referida transação por meio de apenas um lançamento contábil, a empresa deverá, obrigatoriamente, utilizar

- A uma única conta do ativo e duas contas do passivo.
- B apenas duas contas do ativo e uma única conta do passivo.
- C apenas uma conta devedora e uma conta credora.
- D três contas devedoras e uma conta credora.
- E ao menos duas contas do ativo e três contas do passivo.

Questão 50

Para reforçar seu caixa, uma empresa recorreu ao desconto bancário de alguns títulos emitidos por ela mesma. Sobre essa operação incidiram juros, cobrados antecipadamente, e tarifas bancárias.

A partir da situação hipotética anterior, assinale a opção que apresenta corretamente a contabilização da referida operação na tomadora do crédito, desconsiderados os valores envolvidos.

- A débito – despesas financeiras
débito – conta-corrente
crédito – juros ativos a transcorrer
crédito – títulos descontados
- B débito – despesas bancárias
débito – despesa de juros
débito – conta-corrente bancária
crédito – títulos a receber
- C débito – bancos
débito – encargos a transcorrer
débito – despesas bancárias
crédito – títulos descontados
- D débito – conta-corrente bancária
crédito – empréstimos a pagar
débito – despesas bancárias
crédito – juros passivos a transcorrer
- E débito – despesas financeiras
débito – bancos
crédito – bancos
crédito – empréstimos a pagar

Questão 51

O efeito líquido da movimentação do período sobre o saldo de uma conta é explicitado por meio de

- A apenas balancetes de oito colunas.
- B apenas balancetes de duas colunas.
- C balancetes de duas ou quatro colunas.
- D balancetes de seis ou oito colunas.
- E apenas balancetes de seis colunas.

Questão 52

Conforme as Normas Brasileiras de Contabilidade, assinale a opção correta a respeito do balanço patrimonial.

- A** O balanço patrimonial deve apresentar conta que expresse o total de ativos classificados como disponíveis para venda, caso a legislação permita.
- B** O patrimônio líquido deve conter conta adequada para a necessária reavaliação de itens patrimoniais ativos.
- C** O ativo deve ser organizado por grau de liquidez, e o passivo, por grau de exigibilidade, iniciando-se pelas contas menos líquidas e exigíveis até as mais líquidas e exigíveis.
- D** O passivo não circulante deve expressar todas as obrigações de longo prazo vencidas e com cláusula de cobrança imediata, em caso de inadimplemento.
- E** Os valores relativos a aplicações de recursos para constituição de ativo diferido devem ser apresentados apenas em conta adequada de ativos não circulantes.

Questão 53

De acordo com as Normas Brasileiras de Contabilidade, a demonstração de resultado do exercício deve apresentar

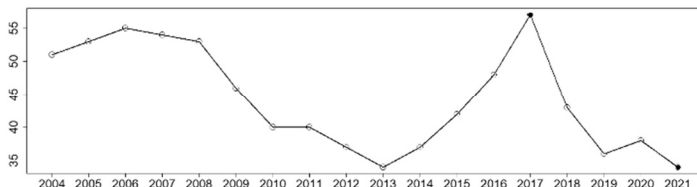
- A** contas de resultados abrangentes que tenham afetado a posição patrimonial dos sócios ou acionistas.
- B** os resultados empresariais organizados por critérios que excluam a segregação em operacionais e não operacionais.
- C** os resultados de negócios empresariais em continuidade, deixando de evidenciar operações descontinuadas.
- D** todos os custos, operacionais ou não, inclusive os custos de oportunidade.
- E** os dividendos por ação tanto dos acionistas majoritários quanto dos minoritários.

Questão 54

5	7	3	0	2	1	7	8	3
---	---	---	---	---	---	---	---	---

A tabela precedente apresenta uma amostra de X ocorrências de furtos em comércios locais registradas em dez dias e selecionadas aleatoriamente. Se Me denota a média amostral e Md representa a mediana amostral de X , sabe-se que a diferença $D = Me - Md$ se relaciona com uma medida de assimetria. Para esse conjunto de dados, o valor D é igual a

- A** +1.
- B** +2.
- C** -2.
- D** -1.
- E** 0.

Questão 55

Internet: <www.sds.pe.gov.br>.

A figura precedente mostra a evolução temporal da taxa de determinado crime, de 2004 a 2021, com valores por 100 mil habitantes, no estado de Pernambuco. Nesse período, essa taxa atingiu o pico em 2017 (57 por 100 mil habitantes), alcançando o menor patamar dessa série histórica em 2021 (34 por 100 mil habitantes). A diferença entre esses extremos, de 23 por 100 mil habitantes, representa uma medida de dispersão conhecida como

- A** amplitude amostral.
- B** desvio padrão.
- C** variância.
- D** intervalo interquartil.
- E** curtose.

Questão 56

Considerados dois eventos aleatórios E_1 e E_2 , tais que $P(E_1 \cap E_2 | E_1) = 0,3$, $P(E_1 | E_2) = 0,4$ e $P(E_1 \cup E_2) = 0,87$, o valor da probabilidade de ocorrência do evento E_1 é igual a

- A** 0,9.
- B** 0,3.
- C** 0,7.
- D** 0,4.
- E** 0,6.

Questão 57

Supondo-se que os eventos A , B , C e D sejam coletivamente independentes, de maneira que $P(A) = 0,4$, $P(B) = 0,3$, $P(C) = 0,2$ e $P(D) = 0,1$, é correto afirmar que o valor da probabilidade de ocorrência do evento $A \cap B \cap C \cap D$ é igual a

- A** 0,0256.
- B** 0,2500.
- C** 0.
- D** 0,0024.
- E** 0,0128.

Questão 58

Um estudo acerca da saúde mental de detentos foi efetuado em determinada penitenciária que reúne 2 mil detentos acomodados em 100 celas. O levantamento dos dados foi conduzido da seguinte forma: dez celas foram selecionadas mediante sorteio aleatório, e todos os 193 detentos encontrados nessas celas foram entrevistados por uma equipe psicossocial.

No levantamento amostral da situação hipotética apresentada, a técnica de amostragem empregada foi a

- A** por conglomerados.
- B** aleatória simples.
- C** sistemática.
- D** estratificada com alocação uniforme.
- E** estratificada com alocação proporcional.

Questão 59

estrato	tamanho populacional	desvio padrão
I	50.000	5
II	80.000	4
III	120.000	3
IV	160.000	2
V	190.000	1
total	600.000	---

Suponha que uma população formada por 600 mil pessoas se encontre distribuída em cinco estratos, conforme o quadro precedente, que mostra, ainda, o desvio padrão da variável de interesse. Para a estimação da média populacional dessa variável de interesse mediante amostragem estratificada com alocação ótima de Neyman, o estrato que deve contribuir com o maior número de unidades amostrais é o

- A** I.
- B** II.
- C** III.
- D** IV.
- E** V.

Questão 60

Considere que um pesquisador deseje estimar a média populacional de uma variável de interesse mediante amostragem aleatória simples com reposição. Nesse caso, para que o erro padrão da média amostral seja igual a 4% do desvio padrão populacional dessa variável de interesse, o tamanho da amostra deverá ser igual a

- A** 625.
- B** 400.
- C** 256.
- D** 25.
- E** 4.

Espaço livre